


Zadania do konkursu „Ja też mogę zostać królem”.

1. Pokoloruj i podpisz poniższe symbole narodowe.



„Jeszcze Polska nie zginęła,
kiedy my żyjemy .
Co nam obca przemoc wzięła,
szablą odbierzemy.”

.....

2. Zaśpiewaj trzy zwrotki hymnu narodowego.

3. Podaj pełną nazwę naszego kraju.

.....

4. Podaj imię i nazwisko autora słów naszego hymnu narodowego.

.....

5. Z podanych miast wykreśl te, które nie były nigdy stolicą Polski.

Gdynia, Warszawa, Wrocław, Gniezno, Września, Kraków

Pozostałe miasta wpisz we właściwej kolejności.

Pierwsza stolica Polski

Druga stolica Polski

Obecna stolica Polski

.....

.....

.....

6. Uzupełnij tekst podanymi wyrazami: **źródło historyczne, archeologia, historia.**


..... jest nauką o przeszłości.

..... to wszystkie ślady działalności człowieka w przeszłości.

..... to nauka, która na podstawie znalezisk odkrywanych podczas prac wykopaliskowych bada dzieje ludzkości.

7. Rozwiąż krzyżówkę. Hasło wpisz w odpowiednie miejsce w zdaniu.

1. Imię jednego z braci w legendzie pt. „Orle gniazdo”.
2. To, co wziął Lech za godło swego plemienia.
3. Legendarny władca Polski, twórca dynastii Piastów.



..... to okres zapoczątkowany jakimś doniosłym wydarzeniem, tak ważnym, że od niego liczy się lata.

8. Jakie wydarzenie stało się początkiem naszej ery, czyli czasu, w którym teraz żyjemy.

9. Kto był pierwszym władcą Polski, którego istnienie poświadczają dokumenty. Ułóż z puzzli portret tego władcy, naklej go na kartce i podpisz.

10. Jakie wydarzenie miało miejsce w roku 966, za panowania Mieszka I?

11. Co trzeba było zrobić, żeby zostać rycerzem? Poniższe zdania ułóż we właściwej kolejności.

..... W wieku około 21 lat , podczas ceremonii pasowania, giermek zostawał rycerzem.

..... Tam do czternastego roku życia był paziem.

..... Siedmioletni chłopiec udawał się na nauki na dwór królewski.

..... Po ukończeniu czternastego roku życia zostawał giermkim i udawał się na praktykę do znanego rycerza.

12. Oblicz działania, by dowiedzieć się na jakie pytanie masz udzielić odpowiedzi. Wyniki wpisz rosnąco do tabeli razem z sylabami.

- $7 \cdot 4 = \dots\dots$ wszym
 $29 + 37 = \dots\dots$ kró
 $32 : 8 = \dots\dots$ Kto
 $93 - 15 = \dots\dots$ Pol
 $8 \cdot 9 = \dots\dots$ lem
 $64 + 36 = \dots\dots$ ski?
 $60 : 10 = \dots\dots$ był
 $100 - 85 = \dots\dots$ pier

Wynik								
Sylaba								

Odp.

13. Podkreśl króla Polski, o którym mówiono, że „zastał Polskę drewnianą, a zostawił murowaną”.

Mieszko I, Kazimierz Wielki, Jan III Sobieski, Władysław Jagiełło

14. Co było wielką zasługą Kazimierza Wielkiego?

.....

15. Wymień dwa warunki, jakie musiał spełnić Władysław Jagiełło, wielki książę litewski, by ściśle związać się z Polską.

.....

.....

16. Uzupełnij zdania.

Bitwa pod Grunwaldem była w roku Król walczył tam

z Walka zakończyła się zwycięstwem

17. Jaka dynastia wzięła początek od Władysława Jagiełły?

.....

18. Gdzie pochowano Władysława Jagiełłę?

.....

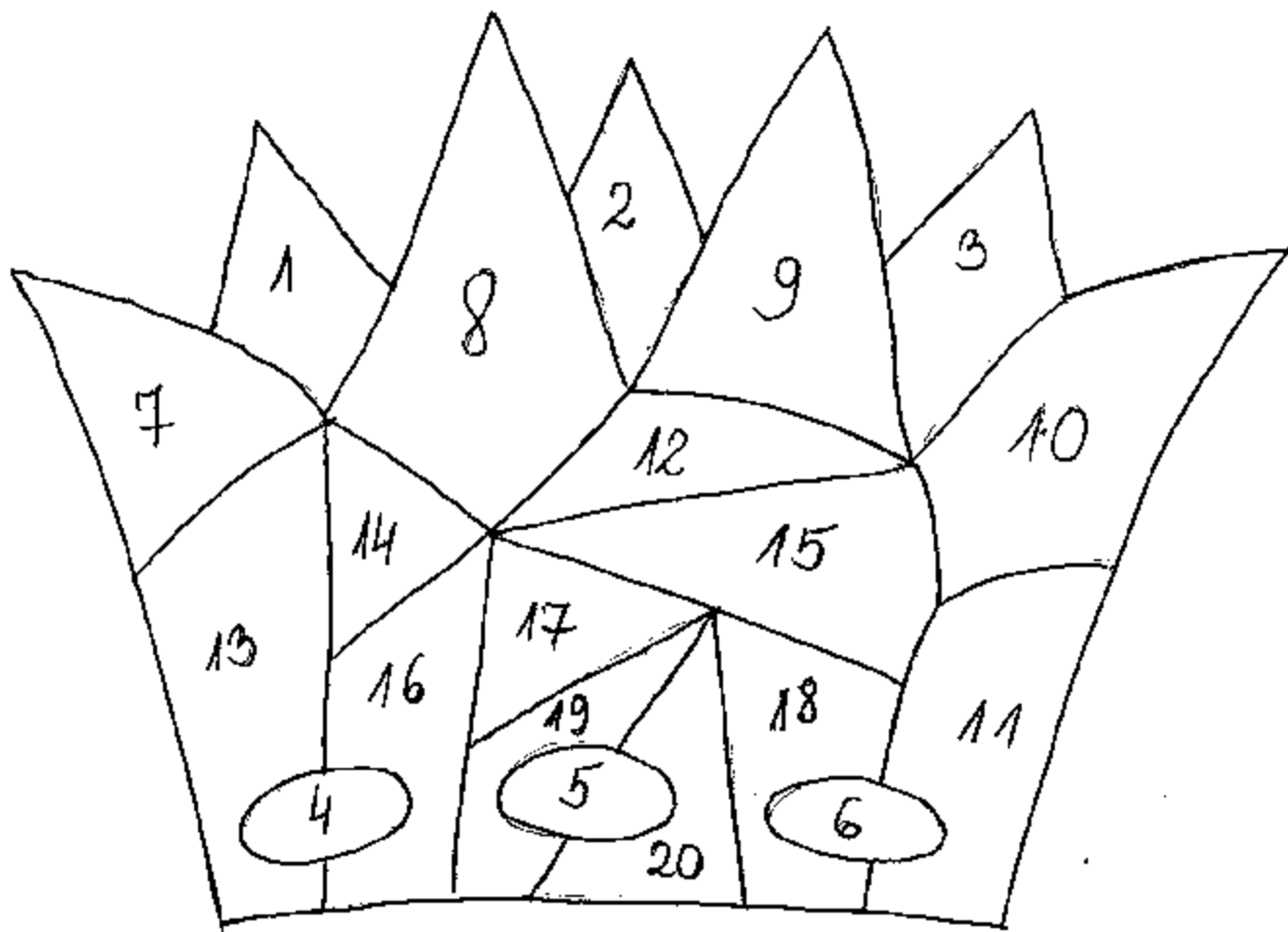
19. Gdzie Jan III Sobieski pokonał Turków? Wykreśl odpowiedź na to pytanie, a przypomnisz sobie, co według ojca Mieszka I było pierwszą powinnością rycerza.

Pierwszą Jan powinnością III rycerza Sobieski jest pokonał słabszych Turków bronić pod i pomoc Wiedniem im nieść.

20. Do czego husarzowi potrzebne były skrzydła?

.....

Ja też mogę zostać królem?



Dziecko, które poprawnie wykona zadanie, koloruje odpowiednią część korony. Na końcu zajęć następuje „uroczysta koronacja uczniów”.